

1a. QUESTÃO:

VALOR: 1,0

Dada a função $f: \mathbb{R} \rightarrow \mathbb{R}$ definida como

$$f(x) = \frac{1}{x^3} - \frac{1}{x}, \quad x \neq 0$$

$$f(x) = 1, \quad x=0$$

determine os valores de m para os quais o gráfico de f admite tangente paralela à reta $y = mx$.

Notação: \mathbb{R} é o conjunto dos números reais.

SOLUÇÃO

$$f'(x) = -\frac{3}{x^4} + \frac{1}{x^2} \Rightarrow f'(x) = \left(\frac{1}{x^2}\right) - 3 \cdot \left(\frac{1}{x^2}\right)^2$$

$$\text{Fazendo-se } z = \frac{1}{x^2}, \quad z \in \mathbb{R}_+^*$$

$$f'(z) = -3z^2 + z$$

NÃO É Z,

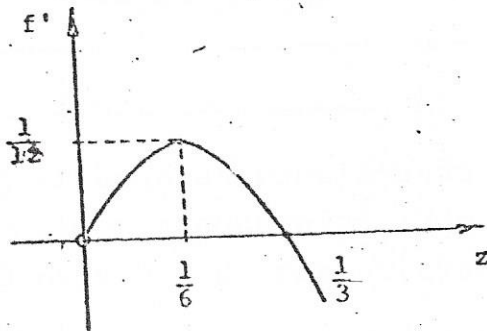
E SIM

$$\pm \frac{\sqrt{z}}{z}$$

$$\text{- raízes: } \begin{cases} z_1 = 0 \\ z_2 = \frac{1}{3} \end{cases}$$

$$\text{- valor máximo: } \frac{-\Delta}{4a} = \frac{1}{12}; \text{ para } z = \frac{1}{6}$$

- gráfico: f'



$$\text{Logo } \text{Im}(f') = \left(-\infty, \frac{1}{12}\right]$$

$$\Rightarrow m \leq \frac{1}{12}$$

2a. QUESTÃO:

VALOR: 1,0

Determine os valores de h , de modo que a desigualdade

$$-3 < \frac{x^2 - hx + 1}{x^2 + x + 1} < 3$$

seja válida para qualquer x real.

SOLUÇÃO

Como, $\forall x \in \mathbb{R} \Rightarrow x^2 + x + 1 > 0$, temos:

$$-3x^2 - 3x - 3 < x^2 - hx + 1 < 3x^2 + 3x + 3$$

$$\Rightarrow \begin{cases} 4x^2 + (3-h)x + 4 > 0 \\ 2x^2 + (3+h)x + 2 > 0 \end{cases} \quad (\forall x \in \mathbb{R})$$

$$i) 4x^2 + (3-h)x + 4 > 0$$

$$\Delta < 0 \Rightarrow (3-h)^2 - 4 \times 4 \times 4 < 0$$

$$\Rightarrow h^2 - 6h - 55 < 0$$

$$\Rightarrow -5 < h < 11$$

$$ii) 2x^2 + (3+h)x + 2 > 0$$

$$\Delta < 0 \Rightarrow (3+h)^2 - 4 \times 2 \times 2 < 0$$

$$\Rightarrow h^2 + 6h - 7 < 0$$

$$\Rightarrow -7 < h < 1$$

de (i) e (ii) temos que:

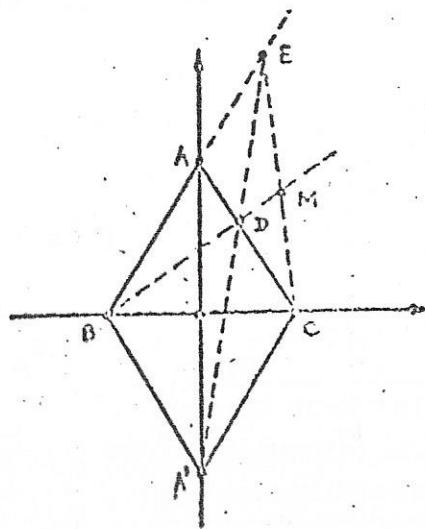
$$\boxed{-5 < h < 1}$$

3a. QUESTÃO:

VALOR: 1,0

Dados dois triângulos equiláteros ABC e A'BC traça-se por A' uma reta qualquer que encontra os lados AC e AB, ou os seus prolongamentos, nos pontos D e E, respectivamente.

Determine o lugar geométrico dos pontos de encontro das retas BD e CE.



SOLUÇÃO

Sejam: $A(0, a\sqrt{3})$; $B(-a, 0)$; $C(a, 0)$ e $A'(0, -a\sqrt{3})$
os vértices dos triângulos.

Equações:

$$AB: y = \sqrt{3}x + a\sqrt{3}$$

$$AC: y = -\sqrt{3}x + a\sqrt{3}$$

$$A'E: r: y = mx - a\sqrt{3}$$

Interseções:

$$r \cap AC: x_D = \frac{2a\sqrt{3}}{m+\sqrt{3}}; y_D = \frac{am\sqrt{3} - 3a}{m+\sqrt{3}}$$

$$r \cap AB: x_E = \frac{2a\sqrt{3}}{m-\sqrt{3}}; y_E = \frac{am\sqrt{3} + 3a}{m-\sqrt{3}}$$

Equações:

$$BD: y = \frac{m\sqrt{3} - 3}{3\sqrt{3} + 3}(x + a) \dots (1)$$

$$CE: y = \frac{m\sqrt{3} + 3}{3\sqrt{3} - m}(x - a) \dots (2)$$

$$\text{de (1)} \Rightarrow m = \frac{3x + 3\sqrt{3}y + 3a}{\sqrt{3}x - y + \sqrt{3}a}$$

$$\text{de (2)} \Rightarrow m = \frac{-3x + 3\sqrt{3}y + 3a}{\sqrt{3}x + y - a\sqrt{3}}$$

Igualando-se as equações acima, temos:

$$\frac{3x + 3\sqrt{3}y + 3a}{\sqrt{3}x - y + a\sqrt{3}} = \frac{-3x + 3\sqrt{3}y + 3a}{\sqrt{3}x + y - a\sqrt{3}}$$

$$\Rightarrow \frac{x + \sqrt{3}y + a}{-x + \sqrt{3}y + a} = \frac{\sqrt{3}x - y + a\sqrt{3}}{\sqrt{3}x + y - a\sqrt{3}}$$

aplicando-se razões e proporções, temos:

$$\frac{x}{\sqrt{3}y + a} = \frac{-y + a\sqrt{3}}{\sqrt{3}x}$$

$$\Rightarrow \sqrt{3}x^2 = -\sqrt{3}y^2 + 2ay + a^2\sqrt{3}$$

$$\Rightarrow x^2 + y^2 - 2 \cdot \frac{\sqrt{3}}{3} a = a^2$$

$$\Rightarrow x^2 + \left(y - \frac{a\sqrt{3}}{3}\right)^2 = \frac{4a^2}{3}$$

LUGAR GEOMÉTRICO:

Circunferência circunscrita ao triângulo ABC
excluindo-se os vértices B e C

4a. QUESTÃO:

VALOR: 1,0

Mostre que não existem matrizes quadradas A e B, que verifiquem $AB - BA = I$ onde I é a matriz identidade de uma ordem n qualquer.

SOLUÇÃO

Suponhamos que existam matrizes A e B tais que

$$AB - BA = I$$

Usando-se o conceito de traço de uma matriz (soma dos elementos da sua diagonal principal), temos que:

$$\text{traço}(AB) = \text{traço}(BA)$$

$$\Rightarrow \text{traço}(AB - BA) = \text{traço}(AB) - \text{traço}(BA) = 0$$

$$\text{e como traço}(I) = 1 + 1 + 1 + \dots + 1 = n$$

$$\Rightarrow \text{traço}(AB - BA) \neq \text{traço}(I)$$

$$\Rightarrow \text{ABSURDO}$$

5a. QUESTÃO:

VALOR: 1,0

Mostre que o número

$$\underbrace{4444 \dots 48888 \dots 89}_{n \text{ vezes} \quad (n-1) \text{ vezes}}$$

é um quadrado perfeito.

SOLUÇÃO

$$N = \underbrace{4444 \dots 48888 \dots 89}_n = \underbrace{4444 \dots 48888 \dots 88}_n + 1 =$$

$$4 \cdot \underbrace{[1111 \dots 1]}_n \times 10^n + 8 \cdot \underbrace{[1111 \dots 1]}_n + 1 =$$

$$= 4 \cdot \frac{10^n - 1}{9} \times 10^n + 8 \cdot \frac{10^n - 1}{9} + 1 =$$

$$= \frac{4}{9} \cdot 10^{2n} - \frac{4}{9} \cdot 10^n + \frac{8}{9} \cdot 10^n - \frac{8}{9} + 1 =$$

$$= \frac{4}{9} \cdot 10^{2n} + \frac{4}{9} \cdot 10^n + \frac{1}{9} = \left[\frac{2 \cdot 10^n + 1}{3} \right]^2$$

Como $2 \cdot 10^n + 1$ é múltiplo de 3 (soma dos algarismos igual a 3),

$\frac{2 \cdot 10^n + 1}{3}$ é inteiro e N é quadrado perfeito.

6a. QUESTÃO:

VALOR: 1,0

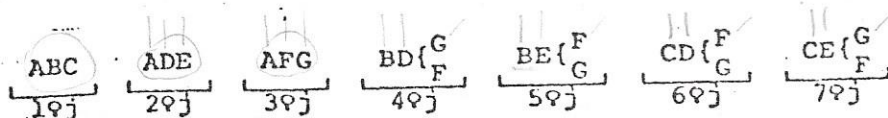
O professor Sah Bido quer oferecer jantares para 3 alunos de cada vez.

O professor tem 7 alunos e quer oferecer 7 jantares, com a restrição de que um mesmo par de alunos não pode ser convidado para mais de um jantar, isto é, se os alunos A, B e C comparecerem a algum jantar, então a presença do aluno A, por exemplo, em outro jantar, impedirá a presença de C ou de B, neste jantar.

Chamando-se de programa a um conjunto de 7 jantares nas condições especificadas, pergunta-se: quantos programas diferentes poderão ser formados?

SOLUÇÃO

1) Fixando 3 alunos em um jantar (por exemplo: A,B,C); existem apenas 6 maneiras de formar um programa de 7 jantares pois:



i) os alunos A,B,C têm que aparecer, separadamente, em mais de 2 jantares;

ii) o aluno D aparecerá em 3 jantares diferentes, junto, respectivamente, aos alunos A,B,C;

iii) o 3º aluno do 2º jantar poderá ser escolhido de 3 maneiras (E, F ou G; por exemplo: E);

iv) o aluno E jantará com B e C, desde que D não esteja jantando;

v) para o 3º jantar terão que ser convidados os 2 alunos que ainda não jantaram com A (no exemplo: F, G);

vi) temos agora 2 hipóteses para completar os 4 últimos jantares (respectivamente: F, G, G, F ou G, F, F, G).

Logo:

total de hipóteses fixados os alunos do 1º jantar:

$$3 \times 2 = 6$$

2) Podemos escolher os componentes do 1º jantar das seguintes maneiras:

$$AB \begin{cases} C \\ D \\ E \\ F \\ G \end{cases} \Rightarrow 5 \text{ hipóteses}$$

OBSERVAÇÃO:

Se mudarmos a 2ª letra, também, estaremos repetindo jantares, pois, por exemplo, ACG, já aparece nas considerações anteriores.

Total: $6 \times 5 = 30$ ~~programas~~ programas

7a. QUESTÃO:

ÍTEM a

VALOR: 0,7

A população de um país, no ano t , $t \geq 1860$, é dada, aproximadamente por:

$$N(t') = \frac{L}{1 + e^{\frac{\lambda - t'}{\alpha}}} \quad \text{onde } t' = t - 1860,$$

L , λ , α são constantes reais e

$10^6 \times N(t')$ é o número de habitantes.

a) Calcule a população do país no ano 2000, sabendo-se que em 1860, ele tinha 15 milhões de habitantes, em 1895, 18 milhões de habitantes e em 1930, 20 milhões de habitantes.

Notação: e é a base do sistema de logaritmos neperianos.

SOLUÇÃO

$$1) \quad t = 1860 \Rightarrow t' = 0 \Rightarrow \frac{L}{1 + e^{\lambda/\alpha}} = 15$$

$$t = 1895 \Rightarrow t' = 35 \Rightarrow \frac{L}{1 + e^{\lambda/\alpha} \cdot e^{-35/\alpha}} = 18$$

$$t = 1930 \Rightarrow t' = 70 \Rightarrow \frac{L}{1 + e^{\lambda/\alpha} \cdot e^{-70/\alpha}} = 20$$

$$ii) \quad \text{Sejam: } a = e^{\lambda/\alpha}$$

$$b = e^{-35/\alpha}$$

$$\text{Temos: } \frac{L}{1+a} = 15 \Rightarrow a = \frac{L-15}{15} \dots\dots (1)$$

$$\frac{L}{1+ab} = 18 \Rightarrow ab = \frac{L-18}{18} \dots\dots (2)$$

$$\frac{L}{1+ab^2} = 20 \Rightarrow ab^2 = \frac{L-20}{20} \dots\dots (3)$$

iii) De (1), (2) e (3) vem:

$$\left(\frac{L-18}{18}\right)^2 = \frac{L-15}{15} \times \frac{L-20}{20} \Rightarrow 2L^2 - 45L = 0$$

$$\Rightarrow \begin{cases} L = 0 \text{ (não serve)} \\ L = \frac{45}{2} \end{cases}$$

$$\text{De (1) temos: } a = \frac{1}{2}$$

$$\text{De (2) temos: } b = \frac{1}{2}$$

$$\text{iv) } t = 2000 \Rightarrow t' = 140$$

$$\Rightarrow N(140) = \frac{L}{1 + e^{\lambda/\alpha} \cdot e^{-140/\alpha}} = \frac{L}{1 + a \cdot b^4}$$

$$\Rightarrow N(140) = \frac{240}{11}$$

$$\Rightarrow \text{POPULAÇÃO 2000 : 21,8 milhões de habitantes}$$

7a. QUESTÃO:

ÍTEM b

VALOR: 0,3

b) Ao longo do tempo, a população tenderá a um número finito de habitantes? Justifique sua resposta.

SOLUÇÃO

$$\lim_{t' \rightarrow \infty} N(t') = \lim_{t' \rightarrow \infty} \frac{L}{1 + e^{\lambda/\alpha} \cdot e^{-t'/\alpha}}$$

$$\text{como } \alpha > 0, \quad e^{-t'/\alpha} \rightarrow 0$$

$$\Rightarrow \lim_{t' \rightarrow \infty} N(t') = L$$

Logo a população tenderá a 22,5 milhões de habitantes.

8a. QUESTÃO:

VALOR: 1,0

Seja \mathbb{C} o conjunto dos números complexos e seja $h \in \mathbb{C}$. Diz-se que um ponto h é um ponto de Hurwitz se $|h| = 1$ e, para todo número natural n , $h^{n+1} \neq 1$.

Prove que o ponto $z = \frac{2-i}{2+i}$ é um ponto de Hurwitz.

Notação: $i^2 = -1$.

SOLUÇÃO

$$1) \quad z = \frac{2-i}{2+i} \times \frac{2-i}{2-i} = \frac{(2-i)^2}{4+1} \Rightarrow z = \frac{3}{5} - \frac{4}{5}i$$

$$\Rightarrow |z| = 1$$

1j) Seja $z = \text{cis } 2\theta$, onde $\theta = \text{arc tg}(-\frac{1}{2})$

$$z^{n+1} = \text{cis}(2(n+1)\theta)$$

Mas:

$$\text{tg}(n+1)\theta = \frac{\text{tg } n\theta + \text{tg } \theta}{1 - \text{tg } n\theta \cdot \text{tg } \theta} \quad \text{e como } \text{tg } \theta = -\frac{1}{2}$$

$$\Rightarrow \text{tg}(n+1)\theta = \frac{2 \text{tg } n\theta - 1}{\text{tg } n\theta + 2}$$

$$\text{Seja } \text{tg } n\theta = \frac{P_n}{Q_n} \Rightarrow \text{tg}(n+1)\theta = \frac{2P_n - Q_n}{P_n + 2Q_n} = \frac{P_{n+1}}{Q_{n+1}}$$

$$\Rightarrow \begin{cases} P_{n+1} = 2P_n - Q_n \dots (1) \\ Q_{n+1} = P_n + 2Q_n \dots (2) \end{cases}$$

$$2 \times (1) + (2) \Rightarrow 5P_n = 2P_{n+1} + Q_{n+1} \dots (3)$$

$$(1) \Rightarrow P_{n+2} = 2P_{n+1} - Q_{n+1} \Rightarrow Q_{n+1} = 2P_{n+1} - P_{n+2} \dots (4)$$

de (3) e (4) temos:

$$P_{n+2} = 4P_{n+1} - 5P_n$$

Mas:

$$\text{tg } \theta = -\frac{1}{2} \Rightarrow P_1 = -1$$

$$\text{tg } 2\theta = -\frac{4}{3} \Rightarrow P_2 = -4$$

Logo, aplicando-se CONGRUÊNCIA MÓDULO 10, temos:

$$P_1 = -1 \equiv -1$$

$$P_2 = -4 \equiv -4$$

$$1) \begin{cases} P_{n+1} \equiv -4 \\ P_n \equiv -1 \end{cases} \Rightarrow P_{n+2} \equiv -16 + 5 = -11 \equiv -1$$

$$2) \begin{cases} P_{n+1} \equiv -1 \\ P_n \equiv -4 \end{cases} \Rightarrow P_{n+2} \equiv -4 + 20 = 16 \equiv -4$$

Logo, $\forall n \in \mathbb{N}$, $P_{n+1} \not\equiv 0 \pmod{10} \Rightarrow \text{tg}((n+1)\theta) \neq 0, \forall n \in \mathbb{N}$

$$\Rightarrow \text{sen}(2(n+1)\theta) \neq 0 \Rightarrow h^{n+1} \neq 1$$

De (1) e (11) segue-se que $\frac{2}{2+i}$ é um ponto de Hurwitz.

9a. QUESTÃO:

VALOR: 1,0

Prove a seguinte identidade:

$$\binom{n+1}{2m+1} = \sum_{k=0}^n \binom{n-k}{m} \binom{k}{m},$$

onde n e m são inteiros positivos e

$$\binom{n}{m} = \frac{n!}{(n-m)! m!} \quad \text{para } n \geq m$$

$$\text{e } \binom{n}{m} = 0 \quad \text{para } n < m.$$

SOLUÇÃO

$$\sum_{k=0}^n \binom{n-k}{m} \binom{k}{m} =$$

(Neste caso, $k \geq m$ para que $\binom{k}{m}$ não se anule).
 $n-k \geq m \Rightarrow m \geq m+k \Rightarrow m \geq 2m$

$$= C_{n-m}^m \cdot C_m^m + C_{n-m-1}^m \cdot C_{m+1}^m + C_{n-m-2}^m \cdot C_{m+2}^m + \dots + C_m^m \cdot C_{n-m}^m =$$

$$= \sum_{k=0}^{n-2m} \left[C_{(n-2m)+m-k}^m \cdot C_{m+k}^m \right] = C_{n+1}^{2m+1},$$

de acordo com o resultado conhecido (LEMA):

$$\sum_{k=0}^s C_{s+b-k}^b \cdot C_{a+k}^a = C_{a+b+s+1}^{a+b+1}$$

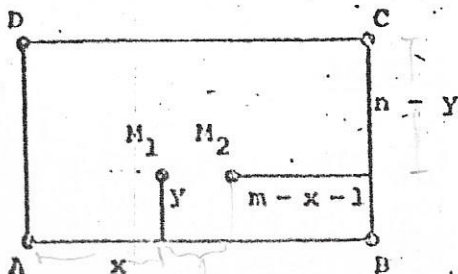
fazendo-se: $s = n - 2m$

$b = m$

$a = m$

então: $a + b + s + 1 = n + 1$

$a + b + 1 = 2m + 1$

LEMA: Demonstração:Considere o retângulo ABCD de lados m e n abaixo:

Seja L_x^y o número de caminhos ligando A a C e passando por $M_1(x, y)$ e $M_2(x+1, y)$.

$$L_x^y = C_{x+y}^y \cdot C_{m+n-x-y-1}^{n-y}$$

$$\sum_{y=0}^n L_x^y = \sum_{y=0}^n C_{x+y}^y \cdot C_{m+n-x-y-1}^{n-y} = \sum_{y=0}^n C_{x+y}^x \cdot C_{m+n-x-y-1}^{m-x-1} \dots (1)$$

$$\sum_{y=0}^n L_x^y = \text{total de caminhos de } A \text{ até } C = C_{m+n}^n \dots (2)$$

Sejam:

$$\begin{aligned} x &= a \\ y &= k \\ n &= s \\ m - x - 1 &= b \end{aligned}$$

Temos de (1) e (2), que:

$$\sum_{k=0}^s C_{a+k}^a \cdot C_{s+b-k}^b = C_{a+b+s+1}^{a+b+1}$$

10a. QUESTÃO:

VALOR: 1,0

Seja $M = (m_{ij})$ uma matriz quadrada real $n \times n$ de termos positivos. Define-se o "permanente de M " como

$$\text{perm } M = \sum_S m_{1t(1)} m_{2t(2)} \dots m_{nt(n)}$$

onde S é o conjunto das permutações $(t(1), t(2), \dots, t(n))$ de $\{1, 2, \dots, n\}$.

A matriz $\begin{bmatrix} 1 & 2 & 3 \\ 4 & 5 & 6 \\ 7 & 8 & 9 \end{bmatrix}$ tem, por exemplo, como permanente

$$1 \times 5 \times 9 + 4 \times 8 \times 3 + 2 \times 6 \times 7 + 3 \times 5 \times 7 + 2 \times 4 \times 9 + 1 \times 6 \times 8.$$

Seja a matriz $n \times n$, $H = (h_{ij})$ onde $h_{ij} = i(j+1)$.

Calcule o permanente de H .

SOLUÇÃO

$$T_p = (1 \cdot a_1) \times (2 \cdot a_2) \times \dots \times (n \cdot a_n) = n! \times (a_1 \cdot a_2 \cdot \dots \cdot a_n)$$

onde (a_1, a_2, \dots, a_n) é uma das $n!$ permutações de $(2, 3, \dots, n, n+1)$.

$$\text{Logo: } a_1 \cdot a_2 \cdots a_n = (n+1)!$$

$$\text{Assim: } T_p = n!(n+1)! \quad , \quad \forall p \in S$$

Finalmente, temos:

$$\sum_{p \in S} T_p = (n!)^2 \cdot (n+1)! \quad ; \quad \text{pois existem } n! \text{ termos.}$$

$$\Rightarrow \text{perm } H = (n!)^2 \cdot (n+1)!$$